




CADERNO DE PROVA

-  08h às 11h 30 min
-  3h 30 min de duração*
-  40 questões

Motorista

Nome do candidato(a): _____

Assinatura: _____

Número do Documento de identificação: _____

Atenção

Confira o número que você obteve no ato da inscrição com o que está indicado no cartão-resposta.

* A duração da prova inclui o tempo para o preenchimento do cartão-resposta.

Instruções

Para fazer a prova você usará:

- este caderno de prova;
- um cartão-resposta que contém o seu nome, número de inscrição e espaço para assinatura.

Verifique, no caderno de prova, se:

- faltam folhas;
- a sequência de questões está correta;
- há imperfeições gráficas que possam causar dúvidas.

Comunique imediatamente ao fiscal qualquer irregularidade.

Informações importantes

- Não é permitido qualquer tipo de consulta durante a realização da prova.
- Para cada questão são apresentadas 5 (cinco) alternativas diferentes de respostas (a, b, c, d, e). Apenas uma delas deverá ser assinalada.
- A interpretação das questões é parte integrante da prova, não sendo permitidas perguntas aos fiscais.
- Não destaque folhas da prova.

Ao terminar a prova, **entregue ao fiscal o caderno de prova completo e o cartão-resposta** devidamente preenchido e assinado.

Conhecimentos Gerais

(20 questões)

Leia o texto abaixo para responder a questão número 1:

Governo de SC lança programa de incentivo à geração de energia limpa

O governo do estado lançou na tarde desta quarta-feira (24) um programa que tem como objetivo estimular a geração de energia limpa. A meta é passar de 880 MWh para 1 mil MWh, com a implantação de opções alternativas de energia, como a eólica e a solar.

O SC+Energia foi lançado a partir das 14h no Teatro Pedro Ivo, em Florianópolis. **Durante o evento**, o governador Raimundo Colombo destacou os diferenciais competitivos do estado. "Santa Catarina tem vantagens estratégicas que nos permitem enfrentar o momento difícil do país".

Segundo o vice-governador, Eduardo Pinho Moreira, entre as alternativas de energia limpa que podem ser incentivadas no estado está a energia gerada pela biomassa. "Somos os maiores produtores de suínos do Brasil, utilizar os dejetos de forma sustentável é exemplo para o país", ressaltou.

O programa tem como objetivo trabalhar o desenvolvimento, com sustentabilidade ambiental, segundo o governo. "Serão investidos R\$5 bi, com geração de 1000 MWh e empregos, movimentando a economia com qualidade de vida e sustentabilidade", ressaltou o secretário de Desenvolvimento Sustentável (SDS), Carlos Chiodini.

O programa é coordenado pela SDS e conta com o apoio de diferentes órgãos e instituições que atuam no estado. Para as empresas que participarem do programa, o governo prevê benefícios, como isenção do ICMS até 2021. Para isso, serão lançadas chamadas públicas. "O empreendimento será avaliado por este comitê e, sendo aprovado, ele ingressa no

programa, passando a contar com uma série de benefícios", informou o governo.

Geração de energia em SC

De acordo com as Centrais Elétricas de Santa Catarina (Celesc), no primeiro trimestre de 2015, o estado consumiu 6.195 gigawatts (GWh) de energia. O que representa em média 2.065 GWh por mês. As instalações comerciais correspondem a 32,6% deste gasto, a indústria, 22,4%, e o comércio, 21,8%.

Atualmente, a energia **limpa** gerada em Santa Catarina corresponde a 19,5% do total. "Há 74 Pequenas Centrais Hidrelétricas (PCHs) que geram 560 MW, no caso, 12,35% de energia no Estado. Outros tipos de energias limpas são a eólica, que geram 242 MW, e a solar, com apenas 4,2 MW. Ainda em Santa Catarina, há 114 Centrais Geradoras Hidrelétricas (CGHs) que operam 77 MW. Nove PCHs estão em construção e irão fornecer mais 52,2 MW", informou o governo do estado.

Fonte: Disponível em:

<<http://g1.globo.com/sc/santa-catarina/noticia/2015/06/governo-de-sc-lanca-programa-de-incentivo-geracao-de-energia-limpa.html>>. Acesso em: 24 jun. 2015.

- 1- Considere as seguintes afirmações:
- I - O texto lido é uma notícia.
 - II- A palavra "limpa", destacada no texto, é uma característica de energia.
 - III - A expressão "Durante o evento", destacada no texto, dá ideia de lugar.
- Qual(is) afirmação(ões) está(ão) correta(s)?
- A. Somente a II.
 - B. Somente a I.
 - C. Somente a III
 - D. Afirmações I e II
 - E. Nenhuma das alternativas.

Leia os textos que seguem para responder a questão 2:

A - Vende-se móvel

Baú, de madeira, com fechadura e duas alças que possibilitam um transporte. Medidas: 1,20 m de comprimento e 60 cm de altura. Peça que pertenceu a uma família da nobreza. Ligar para: 100-1010.

B - Vende-se móvel antigo

Baú entalhado, de madeira maciça, com fechadura reforçada e duas largas alças douradas que possibilitam um fácil transporte. Medidas: 1,20 m de comprimento e 60 cm de altura. Peça que pertenceu a uma família da nobreza portuguesa. Ligar para: 100-1010.

2- Em qual dos anúncios publicitários conseguimos visualizar melhor o baú?

- A. No anúncio B, porque o texto não apresenta nenhuma característica.
- B. No anúncio A, porque é um texto mais rico em características do que o texto B.
- C. No anúncio A, porque é um texto objetivo.
- D. No anúncio B, porque possui mais características, definindo melhor e de forma mais específica as características do móvel a ser vendido.
- E. Nenhuma das alternativas.

3- Na frase “Banco **algum** estava preocupado em agradecer clientes.”, a palavra destacada corresponde a:

- A. um entre dois;
- B. qualquer;
- C. um certo;
- D. determinado;
- E. nenhum.

Leia a tira que segue para responder a questão 4:



Fonte: Disponível em: <<http://fotografia.folha.uol.com.br/galerias/27431-tiras-de-armandinho>>. Acesso em: 24 jun. 2015.

Ampliação do texto da tirinha

Quadro 1: “Produto interno bruto”

Quadro 2: “Renda per capta?”

Quadro 3: “Distribuição de renda”

Observações sobre as imagens da tira:

No primeiro quadro, tem-se a imagem de saco com maçãs dentro.

No segundo quadro, em frente a cada criança, tem-se um punhado de maçãs.

No terceiro quadro, em frente a cada criança parada, tem-se um pedaço de maçã e uma criança andando com um saco cheio.

4- A tira faz uma crítica a que problema social?

- A. Ao cálculo incorreto da produção do Produto Interno Bruto (PIB).
- B. A desigualdade social referente ao PIB.
- C. A desigualdade social referente a divisão da Renda Per Capita.
- D. Ao egoísmo presente nos relacionamentos.
- E. Nenhuma das alternativas.

Leia a tira que segue para responder a questão 5:



Fonte: Disponível em: <<http://fotografia.folha.uol.com.br/galerias/27431-tiras-de-armandinho>>. Acesso em: 24 jun. 2015.

Ampliação do texto da tirinha

Quadro 1: “Às vezes...”

Quadro 2: “...o melhor presente...”

Quadro 3: “...é estar presente”

5- Considere as afirmativas:

I – Às vezes é uma expressão utilizada com ideia de possibilidade.

II – Às vezes é uma expressão utilizada com ideia de tempo.

III - Presente está nomeando algo no 2º quadrinho.

IV - Presente está nomeando algo no 3º quadrinho.

Assinale a alternativa que possui as afirmações corretas em relação a tira:

- A. II e IV.
- B. I e II.
- C. I e IV.
- D. II e III.
- E. Nenhuma das alternativas.

Leia o poema “Do amoroso esquecido” abaixo para responder a questão 6:

Do amoroso esquecido

Mário Quintana

Eu agora - que desfecho! / Já nem penso mais em ti... / Mas será que nunca deixo / De lembrar que te esqueci?

Fonte: Disponível em:

<<http://kdfrases.com/autor/mario-quintana>>.

Acesso em: 24 jun. 2015.

6- Assinale a alternativa correta:

- A. O poema não expressa nenhum sentido.
- B. É uma pessoa que está realizada com o amor.
- C. É uma pessoa que está realizada com o sucesso profissional.
- D. É uma pessoa que está desolada com o amor.
- E. Nenhuma das alternativas.

Leia a fábula “A Lebre e a tartaruga de Esopo” para responder a questão 7:

A lebre e a tartaruga

Era uma vez... uma lebre e uma tartaruga. A lebre vivia caçoando da lerdeza da tartaruga. Certa vez, a tartaruga já muito cansada por ser alvo de gozações, desafiou a lebre para uma corrida.

A lebre muito segura de si, aceitou prontamente. Não perdendo tempo, a tartaruga pôs se a caminhar, com seus passinhos lentos, porém, firmes.

Logo a lebre ultrapassou a adversária, e vendo que ganharia fácil, parou e resolveu cochilar. Quando acordou, não viu a tartaruga e começou a correr.

Já na reta final, viu finalmente a sua adversária cruzando a linha de chegada, toda sorridente.

Moral da história: Devagar se vai ao longe!

Fonte: Disponível em: <http://sitededicadas.ne10.uol.com.br/fabula_lebre_tartaruga.htm>. Acesso em: 24 jun. 2015.

7- Qual é a alternativa correta em relação ao texto?

- A. A fábula é um texto que os personagens são animais com atitudes humanas.
- B. A fábula possui só moral e não conta nenhuma história.
- C. A história aconteceu no futuro.
- D. O personagem é o narrador da história.
- E. Nenhuma das alternativas.

8- Leia o seguinte ditado popular: “**Quem vai à feira, perde a cadeira.**” Em relação ao ditado, podemos afirmar como correto:

- A. Significa que as coisas são substituíveis.
- B. Significa fazer algo difícil.
- C. Significa fazer algo fácil.
- D. Significa que devemos ter persistência.
- E. Nenhuma das alternativas.

Leia o seguinte texto para responder a questão 9:

Bolo de chocolate

Massa:

6 ovos

6 colheres (sopa) de açúcar

6 colheres (sopa) de chocolate em pó

6 colheres (sopa) de margarina

100 g de coco ralado

2 colheres (sopa) de fermento em pó

Cobertura:

1 lata de leite condensado

1 lata de leite (a mesma medida do leite condensado)

1 colher de margarina

6 colheres de chocolate em pó

Modo de Preparo

Massa:

1. Bata todos os ingredientes no liquidificador.

2. Coloque a massa em forma untada com margarina e farinha de trigo.

3. Asse em forno médio, pré-aquecido, por cerca de 40 minutos, ou até dourar.

- 9- Assinale a frase que está correta:
- A. A receita é um texto que conta uma história.
 - B. A receita é um texto com instruções.
 - C. A receita é composta basicamente de duas partes, ingredientes e modo de fazer.
 - D. A receita é um texto que mostra uma opinião.
 - E. Nenhuma das alternativas.

Leia o poema “Arte de amar” abaixo para responder a questão 10:

Arte de amar

Manuel

Bandeira

Se queres sentir a felicidade de amar, esquece a tua alma. A alma é que estraga o amor. Só em

Deus ela pode encontrar satisfação. Não noutra alma. Só em Deus - ou fora do mundo. As almas são incomunicáveis. Deixa o teu corpo entender-se com outro corpo. Porque os corpos se entendem, mas as almas não.

Fonte: Disponível em: <<http://pensador.uol.com.br/frase/NTcyODI>>. Acesso em: 24 jun. 2015.

10- O termo “ela” no texto refere-se:

- A. A uma mulher.
- B. A alma.
- C. A uma menina.
- D. A felicidade.
- E. Nenhuma das alternativas.

Observe e leia a imagem abaixo para responder a questão 11:



Fonte: Disponível em: <<http://www.doeseulixo.org.br/ultimas-noticias/coleta-seletiva-em-nova-campanha-do-governo-federal/>>. Acesso em: 24 jun. 2015.

11- Assinale a alternativa correta:

- A. O texto não incentiva a cuidar da natureza.
- B. O texto quer mudar o comportamento das pessoas em relação a natureza.
- C. O texto acima utiliza frase sem nomes.
- D. O texto acima faz referência a um problema ambiental exclusivo de uma região.
- E. A palavra “te” não se refere ao interlocutor.

Leia a piada “Incômodo do Cigarro” abaixo para responder a questão 12:

Incômodo do Cigarro

Um homem se aproxima de um fumante e diz:

- O teu cigarro está me incomodando!

O fumante responde:

- Cara, ele está me matando e eu não estou reclamando.

12- Quantos personagens há no texto?

- A. Dois;
- B. Um;
- C. Três;
- D. Quatro;
- E. Nenhuma das alternativas.

Observe e leia o texto abaixo para responder a questão 13:



Fonte: Disponível em:

<<http://www.doeseulixo.org.br/ultimas-noticias/coleta-seletiva-em-nova-campanha-do-governo-federal/>>. Acesso em: 24 jun. 2015.

13- Assinale a alternativa correta.

- A. As palavras “Separe” e “Acerte” tem sentido de possibilidade.
- B. As palavras “Separe” e “Acerte” tem sentido de certeza.
- C. As palavras “Separe” e “Acerte” tem sentido de ordem.
- D. A palavra “e” dá ideia de contradição na frase.
- E. Nenhuma das alternativas.

Leia a tira que segue para responder a questão 14:



Fonte: Disponível em: <<http://blog.clickgratis.com.br/SOTIRINHAS/366352/mafalda-do-quino.html>>. Acesso em: 24 jun. 2015.

Ampliação do texto da tirinha

Quadro 1: “Vamos ver este novo livro de histórias”

Quadro 2: “Num país distante vivia um ogro que comia crianças.”

Quadro 3: “Droga!” “Sempre comem a gente!”

Quadro 4: “Até quando vamos ser os frangos da literatura?”

14- Considere a alternativa incorreta:

- A. A palavra “livro” está nomeando algo.
- B. A palavra “sempre” dá ideia de tempo.
- C. “Vivia” é uma palavra usada com ideia de que algo está acontecendo neste momento.
- D. Na frente da palavra “Vamos” poderíamos usar a palavra “Nós”.
- E. A palavra “Droga” está sendo empregada para expressar uma emoção da personagem.

Observe e leia o texto abaixo para responder a questão 15:



Fonte: Disponível em:
<<http://www.frasesparaface.com.br/o-que-e-bonito-me-encanta-mas-o-que-e-sincero/>>.
Acesso em: 24 jun. 2015.

15- Assinale a alternativa correta.

- A. A palavra “mas” dá ideia de troca.
- B. A palavra “mas” dá ideia de adição.
- C. A palavra “mas” dá ideia de oposição.
- D. A palavra “mas” dá ideia de exclusão.
- E. A palavra “mas” dá ideia de possibilidade.

Leia a fábula “A cigarra e a formiga de Esopo” para responder as questões 16 e 17:

A cigarra e a formiga

A Formiga vivia trabalhando, não tinha tempo para descansar, nem aproveitou a bela paisagem de verão, pois estava preocupada em fazer estoque de comida para o inverno.

Enquanto isso, a Cigarra cantava e aproveitava cada segundo para se divertir, tornando a vida mais alegre, esquecendo-se dos problemas e das responsabilidades.

A Formiga e a Cigarra nunca foram amigas. A Cigarra invejava a habilidade que a Formiga tinha para o trabalho, e a Formiga invejava a alegria e o bom humor da Cigarra.

Quando chegou o inverno, a Cigarra ainda não havia trabalhado e não tinha o que comer, nem onde ficar. Então procurou a ajuda da Formiga, pois estava com muito frio no meio de uma nevasca.

A Formiga estava preparada para o inverno e aceitou a Cigarra em sua casa. As duas tiveram uma longa conversa dentro daquela aconchegante casinha...

A Cigarra disse:

– Obrigada Formiga! Fico feliz por você ter me acolhido!

E a Formiga respondeu:

– Fico feliz em te ajudar. Mas por que você não trabalhou, preparando-se para o inverno?

A Cigarra surpreendendo-se, disse:

– Eu não tenho habilidade para o trabalho. Mas depois do que aconteceu, quero que você me

ensine a trabalhar. E eu posso te ensinar a aproveitar mais a vida, ser mais feliz, cantar e dançar...

A Formiga ficou pasma, porém pensando melhor, resolveu aceitar a proposta da Cigarra.

Assim, a Cigarra e a Formiga se tornaram grandes amigas, felizes e trabalhadoras.

16- Qual a moral da fábula “A cigarra e a formiga”:

- A. Devemos cumprir com nossas responsabilidades;
- B. Devemos aproveitar para nos divertir;
- C. Devemos confiar em nossos amigos;
- D. Devemos sempre pedir ajuda aos outros;
- E. Nenhuma das alternativas.

17- Considere as afirmativas:

I - A formiga e a Cigarra estavam preparadas para o inverno.

II - A formiga trabalhava bastante na história.

III - Quando chegou o inverno, a cigarra havia trabalhado.

IV - A fábula “A cigarra e a formiga” é uma história em que o narrador só relata uma história, não sendo um personagem.

Quais afirmativas são corretas:

- A. I e V;
- B. I e II;
- C. II e III;
- D. IV e V;
- E. II e IV;

Leia o anúncio para auxiliar de limpeza abaixo para responder a questão 18.

Irá executar trabalhos rotineiros de limpeza em geral, espanando, varrendo, lavando ou encerando as dependências, móveis, utensílios e instalações da empresa, para manter as condições de higiene e conservá-los. Recolher o lixo da empresa. Horário de segunda a sexta das 7h15 as 17h15.

Fonte: Disponível em:
<<http://empregocerto.uol.com.br/vagas/auxiliar->

de-limpeza-belo-horizonte-mg-2676729.html>.
Acesso em: 24 jun. 2015.

E. Nenhuma das alternativas.

18- Assinale a alternativa incorreta:

- A. É diurna a atividade executada pelo auxiliar de limpeza.
- B. No contexto, a palavra “dependências” tem sentido de subordinação.
- C. Este anúncio foi retirado do site “uol”.
- D. A palavra “rotineiros”, no contexto, tem significado de habitual.
- E. Nenhuma das alternativas.

Leia o poema de Mário Quintana abaixo para responder a questão 19.

Se tu me amas, ama-me **baixinho**/ Não o grites de cima dos telhados/
Deixa em paz os **passarinhos**/ Deixa em paz a mim! / Se me queres, enfim, tem de ser bem **devagarinho**,
Amada, que a vida é breve e o amor mais breve ainda.

Fonte: Disponível em:

<<http://pensador.uol.com.br/frase/MzQ3/>>.

Acesso em: 24 jun. 2015.

19- Assinale a afirmação correta:

- A. O diminutivo “baixinho” é utilizado no sentido pejorativo.
- B. O diminutivo “passarinhos” é utilizado com sentido de carinho.
- C. O diminutivo “devagarinho” é usado com ideia de intensidade.
- D. O diminutivo “devagarinho” é usado com ideia de coisa pequena.
- E. Nenhuma das alternativas.

20- Interprete o dito popular: “Se dinheiro falasse, o meu diria tchau.”

- A. Este provérbio representa uma pessoa poupadora.
- B. Este provérbio não faz relação com dinheiro.
- C. Este provérbio representa alguém que logo que recebe já acaba seu dinheiro.
- D. Este provérbio representa alguém que quer economizar.

Conhecimentos Específicos

(20 questões)

21- Assinale a alternativa abaixo que corresponda ao nome correto da seguinte placa de sinalização de trânsito segundo o Código de Trânsito Brasileiro (CTB).



R-6c

- A. Proibido parar.
- B. Proibido estacionar.
- C. Proibido ingerir bebidas ao longo da via.
- D. Proibido parar e estacionar.
- E. Entrada proibida.

22- Assinale a alternativa abaixo que corresponda ao nome correto da seguinte placa de sinalização de trânsito segundo o CTB.



R-21

- A. Alfândega.
- B. Parada obrigatória.
- C. Ultrapassagem permitida.
- D. Desnível de pista a frente.
- E. Irregularidades na pista.

23- Assinale a alternativa abaixo que corresponda ao nome correto da seguinte placa de sinalização de trânsito segundo o CTB.



R-19

- A. Velocidade mínima permitida 80km/h.
- B. Velocidade máxima permitida.
- C. Atenção para a velocidade da via.
- D. Centro urbano a 80 km.
- E. Via obstruída a 80km.

24- Assinale a alternativa abaixo que corresponda ao nome correto da seguinte placa de sinalização de trânsito segundo o CTB.



R-35b

- A. Permitido a circulação de ciclistas.
- B. Motociclistas a direita.
- C. Ciclistas a esquerda da via.
- D. Apenas veículos de duas rodas permitido.
- E. Ciclista, transite a direita.

25- Assinale a alternativa abaixo que corresponda ao nome correto da seguinte placa de sinalização de trânsito segundo o CTB.



R-29

- A. Proibida a caminhada nesta via.
- B. Proibido correr nesta via.
- C. Proibida a permanência de pessoas.
- D. Proibida a presença de pessoas.
- E. Proibido trânsito de pedestres.

26- Assinale a alternativa abaixo que corresponda ao nome correto da seguinte placa de sinalização de trânsito segundo o CTB.



R-38

- A. Proibido passagem de caminhões.
- B. Proibido trânsito de ônibus.
- C. Vetado a circulação de veículos de passageiros.
- D. Proibido circulação de veículos de grande porte.

E. Parada para ônibus permitida.

27- Assinale a alternativa abaixo que corresponda ao nome correto da seguinte placa de sinalização de trânsito segundo o CTB.



R-15

- A. Altura máxima permitida.
- B. Retorna em quatro metros.
- C. Cuidado obstáculo a quatro metros.
- D. Barreira com quatro metros à frente.
- E. Altura mínima permitida.

28- Assinale a alternativa abaixo que corresponda ao nome correto da seguinte placa de sinalização de trânsito segundo o CTB.



R-13

- A. Proibido trânsito de máquinas agrícolas.
- B. Permitido trânsito de máquinas agrícolas.
- C. Proibido trânsito de tratores.
- D. Proibido trânsito de tratores e máquinas de obras.
- E. Proibido o trânsito de cortadores de grama.

29- Assinale a alternativa abaixo que corresponda ao nome correto da seguinte placa de sinalização de trânsito segundo o CTB.



A-1a

- A. Curva acentuada à esquerda.
- B. Curva acentuada à direita.
- C. Curva obrigatória à esquerda.
- D. Curva obrigatória à direita.
- E. Proibido virar à esquerda.

30- Assinale a alternativa abaixo que corresponda ao nome correto da seguinte placa de sinalização de trânsito segundo o CTB.



A-11a

- A. Entradas sucessivas à frente.
- B. Entrada de veículos de emergência.
- C. Interseções à frente.
- D. Estacionamento para veículos de emergência.
- E. Junções sucessivas contrárias primeira à esquerda.

31- A sinalização de trânsito de Advertência é confeccionada sempre em duas cores específicas. Qual das alternativas abaixo indica as cores padrão utilizadas nas Sinalizações de Advertência, segundo o CTB.

- A. Vermelha e Branca.
- B. Verde e azul.
- C. Amarela e Preta.
- D. Amarela e Vermelha.
- E. Cinza e Branca.

32- Assinale a alternativa abaixo que não corresponde a uma categoria de sinalização de trânsito prevista pelo CTB.

- A. Sinalização Vertical.
- B. Sinalização Horizontal.
- C. Sinalização de Regulamentação.
- D. Sinalização de Advertência.
- E. Sinalização de Sugestão.

33- O Agente de Trânsito pode usar sinais sonoros na comunicação com o motorista através do emprego de um apito. Existe uma codificação prevista no CTB, que rege a relação entre os silvos emitidos pelo apito do agente de trânsito, e a ação que deve ser tomada pelo condutor do veículo. Assinale a alternativa abaixo que corresponde a ação que deve ser tomada pelo condutor ao ouvir,

do apito de um agente de trânsito, um silvo longo.

- A. Acelerar o veículo.
- B. Parar o veículo.
- C. Descer do veículo.
- D. Acionar o freio de estacionamento do veículo.
- E. Diminuir a marcha.

34- Assinale a alternativa abaixo que expressa um dever de todo o condutor de veículo automotor conforme o CBT.

- A. Circular com veículo com menos de dez anos de uso.
- B. Assegurar-se da existência de combustível suficiente para chegar ao local de destino.
- C. Equipar o veículo com luzes extras para neblina.
- D. Revisar diariamente o filtro de ar.
- E. Certificar-se de que o ambiente interno do veículo esteja devidamente higienizado.

35- Qual das alternativas abaixo consta no CTB como sendo uma norma de circulação de veículo em via terrestre?

- A. A circulação far-se-á sempre pelo lado esquerdo da via.
- B. A circulação far-se-á por ambos os lados de qualquer via.
- C. A circulação far-se-á de acordo com o critério adotado pelo condutor do veículo.
- D. A circulação far-se-á pelo lado direito da via, admitindo-se as exceções devidamente sinalizadas.
- E. A circulação far-se-á sempre pelo lado direito da via independente de sinalização.

36- Assinale a alternativa abaixo que descreve de acordo com o CTB, o tipo de veículo que tem preferência de passagem sobre os demais veículos terrestres listados, respeitadas as normas de circulação.

- A. Bicicletas.
- B. Motocicletas.

C. Caminhonetes.

- D. Veículos que se deslocam sobre trilhos.
- E. Tratores.

37- O CTB descreve situações em que a buzina do veículo pode ser acionada. Qual das alternativas abaixo representa uma das situações previstas no código em que a buzina poderá ser acionada?

- A. Para fazer as advertências necessárias a fim de evitar acidentes.
- B. Para cumprimentar um amigo.
- C. Quando o trânsito estiver lento.
- D. Em frente à hospitais.
- E. Para hostilizar outros motoristas.

38- O CTB determina a posição em que veículos de duas rodas devem ser estacionados em relação à guia da calçada (meio fio). Assinale a alternativa abaixo que representa a orientação do código para tal situação na ausência de sinalização que indique outra condição.

- A. Em posição horizontal à guia da calçada.
- B. Em posição vertical à guia da calçada.
- C. Em posição diagonal à guia da calçada.
- D. Em posição perpendicular à guia da calçada.
- E. Em posição paralela à guia da calçada.

39- O CTB determina algumas obrigações para quem circula com veículos de duas rodas motorizado por vias públicas. Assinale a alternativa abaixo que figura no CTB como obrigação de um condutor de motocicleta.

- A. Segurar o guidom com as duas mãos.
- B. Transitar obrigatoriamente com passageiro.
- C. Circular obrigatoriamente de óculos escuros.
- D. Circular obrigatoriamente com capacete de cores vivas.
- E. Circular obrigatoriamente com o tipo sanguíneo marcado de forma indelével no capacete.



CENTRO UNIVERSITÁRIO BARRIGA VERDE

Entidade Mantenedora: Fundação Educacional Barriga Verde – FEBAVE

Utilidade Pública: Municipal Lei nº 543/77 – Estadual Lei nº 5.534 de 31-05-79 – Federal Proc. M.J. nº 74.99/77

Dec. nº. 89.685/84 – Reg. CNAS nº 23002-352/86-00 – CNPJ: 82.975.236/0001-08

Certificado de Entidade Beneficente de Assistência Social – CCEAS 045/2003

É permitido destacar essa folha do caderno de prova.

Esta folha contém espaço reservado para a anotação de suas respostas e pode ser levada para conferência.

CONCURSO PÚBLICO N° 001/2015

DESTINADO A PROVER VAGAS PARA O QUADRO PERMANENTE DA CAMARA MUNICIPAL DE VEREADORES DE URUSSANGA E FORMAÇÃO DE CADASTRO DE RESERVA

1	2	3	4	5	6	7	8	9	10	11	12	13	14	15	16	17	18	19	20

21	22	23	24	25	26	27	28	29	30	31	32	33	34	35	36	37	38	39	40



CENTRO UNIVERSITÁRIO BARRIGA VERDE

Entidade Mantenedora: Fundação Educacional Barriga Verde – FEBAVE

Utilidade Pública: Municipal Lei nº 543/77 – Estadual Lei nº 5.534 de 31-05-79 – Federal Proc. M.J. nº 74.99/77

Dec. nº. 89.685/84 – Reg. CNAS nº 23002-352/86-00 – CNPJ: 82.975.236/0001-08

Certificado de Entidade Beneficente de Assistência Social – CCEAS 045/2003